

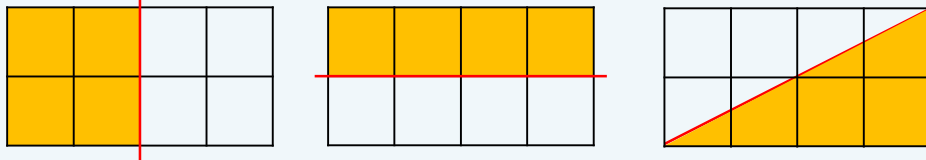


Сурагчийн нэр: .....

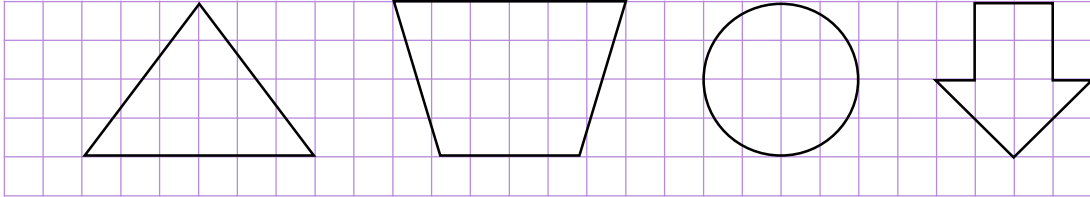
Эхэлсэн: ..... он ..... сар ..... өдөр




Хүснэгтийг хоёр тэнцүү хуваагаад, хагасыг будаарай.




1 Дүрсийг хоёр тэнцүү хуваагаад, хагасыг будаарай.




2 Хэдэн ширхэг байгааг тоолоод хагасыг нь будаарай.



3 Хагас нь хэдэн ширхэг байгааг бичээрэй.



20-ийн хагас нь  болно.



-ийн хагас нь  болно.



-ийн хагас нь  болно.

Дууссан: .....сар .....өдөр



Даалгавар	1	2	3
Өөрийн үнэлгээ			

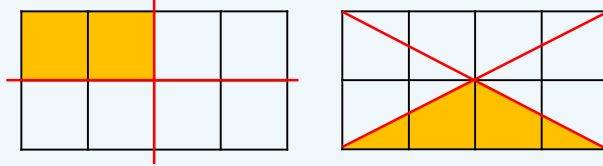


Сурагчийн нэр: .....

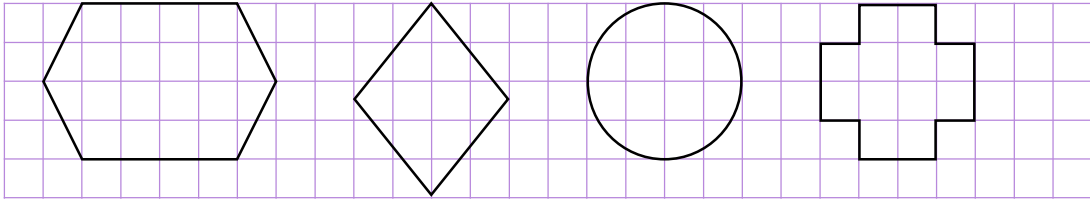
Эхэлсэн: ..... он ..... сар ..... өдөр




Хүснэгтийг 4 тэнцүү хуваагаад, хагасын хагасыг будаарай.



1 Дүрсийг 4 тэнцүү хуваагаад хагасын хагасыг будаарай.



2 Хагасын хагасыг будсан дүрсийг олж, үсгийг дугуйлаарай. .



А


Б

В


Г

Д

3 Хагасын хагасыг будаарай.



4 Хагасын хагас нь хэд вэ?



20-ийн хагасын хагас нь  болно.

Дууссан: .....сар .....өдөр

	Даалгавар	1	2	3	4
	Өөрийн үнэлгээ				



Сурагчийн нэр: .....

Эхэлсэн: ..... он ..... сар ..... өдөр

хагас  $\Rightarrow \frac{1}{2}$  Хоёрны нэг

хагасын хагас  $\Rightarrow \frac{1}{4}$  Дөрөвны нэг


1) Будагдсан хэсгийн хэмжээг бичээрэй.



2) Хагас буюу  $\frac{1}{2}$  -тэй тэнцүү тооны дүрсийг нэмж зураарай.



3) Хагасын хагас буюу  $\frac{1}{4}$  -тэй тэнцүү тооны дүрсийг нэмж зураарай.



4) Дараах тоонуудын  $\frac{1}{2}$ ,  $\frac{1}{4}$  хэсгийг олоорой.

а.  $20 \Rightarrow \frac{1}{2} = 10$        $20 \Rightarrow \frac{1}{4} = \square$        $40 \Rightarrow \frac{1}{2} = \square$

б.  $40 \Rightarrow \frac{1}{4} = \square$        $100 \Rightarrow \frac{1}{2} = \square$        $100 \Rightarrow \frac{1}{4} = \square$

Дууссан: .....сар .....өдөр



Даалгавар	1	2	3	4
Өөрийн үнэлгээ				